

Математика. 4 клас. Зошит №11. Площа фігури

Про книгу

Пропонований посібник входить до серії 14-ти блокнотів «Тренувальні 10-хвилинки», мета яких - закріпити обчислювальні навички та вміння розв'язувати рівняння, нерівності, задачі учнями 4-го класу. Блокнот містить картки з вправами та завданнями, розрахованими на 10-хвилинне виконання, а також підсумковий контроль знань «Перевір себе» з навчальної теми та відповіді для самоперевірки. Посібник зручний у використанні. Працювати з ним можна не лише в школі чи вдома, а й під час подорожі, відпочинку на природі. Для учнів 4-х класів, учителів та дбайливих батьків.


Н.О. Будна

Математика

Блокнот №11

Площа фігури.
Задачі на обчислення площі

4 клас



ТЕРНОПІЛЬ
НАВЧАЛЬНА КНИГА — БОГДАН

УДК 51(075.2)

ББК 22.1я71

Б 90

Серію «Тренувальні 10-хвилинки» засновано 2016 року

Будна Н.О.

Б 90

Математика : 4 кл. : Блокнот №11. Площа фігури. Задачі на обчислення площі / Н.О. Будна. — Тернопіль : Навчальна книга — Богдан, 2023. — 16 с. — (Тренувальні 10-хвилинки).

ISBN 978-966-10-7157-4

Пропонований посібник входить до серії 14-ти блокнотів «Тренувальні 10-хвилинки», мета яких — закріпити обчислювальні навички та вміння розв'язувати рівняння, нерівності, задачі учнями 4-го класу.

Блокнот містить картки з вправами та завданнями, розрахованими на 10-хвилинне виконання, а також підсумковий контроль знань «Перевір себе» з навчальної теми та відповіді для самоперевірки.

Посібник зручний у використанні. Працювати з ним можна не лише в школі чи вдома, а й під час подорожі, відпочинку на природі.

Для учнів 4-х класів, учителів та дбайливих батьків.

УДК 51(075.2)

ББК 22.1я71

Навчальне видання

БУДНА Наталя Олександрівна

МАТЕМАТИКА

Блокнот №11

Площа фігури. Задачі на обчислення площі

4 клас

Головний редактор *Богдан Будний*

Редактор *Любов Левчук*

Обкладинка *Ростислава Крамара*

Комп'ютерна верстка *Лілії Скоренької*

Технічний редактор *Неля Домарецька*

Підписано до друку 14.07.2022. Формат 60x84/8. Папір офсетний. Гарнітура Таймс. Умовн. друк. арк. 1,86. Умовн. фарбо-відб. 1,86.

Видавництво «Навчальна книга — Богдан»

Свідоцтво про внесення суб'єкта видавничої справи до Державного реєстру видавців, виготівників і розповсюджувачів видавничої продукції

ДК № 4221 від 07.12.2011 р.

Навчальна книга — Богдан, просп. С. Бандери, 34а, м. Тернопіль, 46002

Навчальна книга — Богдан, а/с 529, м. Тернопіль, 46008

тел./факс (0352) 52-19-66; 52-06-07; 52-05-48


office@bohdan-books.com

www.bohdan-books.com

КАРТКА №1

1. Обчисли.

$$400\ 045 : 5 - 150\ 027 : 3 = \square \square \square \square$$




2. Продовж речення.

Щоб знайти площу прямокутника, потрібно _____

3. Розв'яжи задачу.

Довжина прямокутника 15 дм, ширина 8 дм. Яка площа цього прямокутника?



Кінець безкоштовного уривку.
Щоби читати далі, придбайте,
будь ласка, повну версію
КНИГИ.

ridmi
ТВІЙ УЛЮБЛЕНИЙ КНИЖКОВИЙ

КУПИТИ